

GUÍA Nº 8 DE MATEMÁTICAS PARA 3º BÁSICO

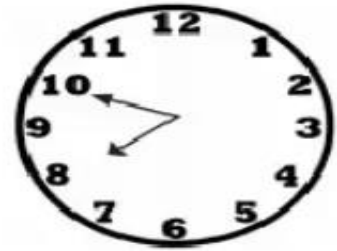



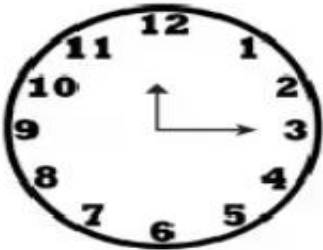
NOMBRE _____ PTJE. IDEAL 46 PTS./PTJE.REAL _____

OBJETIVO: Leer la hora en Relojes análogos y digitales

I.- Lee y completa con la hora que corresponde. (7 pts./____)

- a) ¿Cuántos minutos hay en una hora?
- b) ¿Cuántos días son 2 semanas y 4 días ?
- c) ¿Cuántos minutos hay en 1 hora y 30 minutos?
- d) ¿Cuántos días hay en 3 semanas y 3 días?
- e) Dos días, son horas
- f) Un año tiene días
- g) Media hora son minutos

II.- Escribe la hora indicada (12 pts./____)



III.- Oscar se **levanta a las 7:00** horas para ir a su colegio. Luego de estudiar y hacer sus tareas, **almuerza a las 14:15 horas**. Llegó a su casa, revisa sus cuadernos y **juega con sus amigos a las 18:30 horas**. Dibuja las manecillas del reloj según se indique en el recuadro: (6 pts./_____)

| Hora de levantarse: | Hora de almuerzo: | Hora de jugar: |
|-----------------------------------------------------------------------------------|------------------------------------------------------------------------------------|-------------------------------------------------------------------------------------|
|  |  |  |

IV.- Fabiola tiene que estudiar en su casa entre las 16:15 horas y las 17:15 horas para poder salir a jugar con sus amigas. ¿Cuánto tiempo debe estudiar Fabiola? (2 pts./_____)

V.-¿Cuál es la diferencia entre la hora que indican los siguientes relojes.(2 pts./___)





VI.- Une con una línea cada reloj digital con el reloj análogo que marque la misma hora (5pts./___)




Reloj digital






Reloj analógico






VII.- Observa el siguiente ejemplo y luego escribe tú la hora de cada reloj.
(12 pts./____)

| | | |
|---------------------------------------------------------------------------------------------------------|--------------------------------------------------------------------------------------------------------------|------------------------------------------------------------------------------------------------------------------|
|  <p>1 hora y media</p> |  <p>1 hora y 15 minutos</p> |  <p>15 minutos para las 2</p> |
|---------------------------------------------------------------------------------------------------------|--------------------------------------------------------------------------------------------------------------|------------------------------------------------------------------------------------------------------------------|

| | | |
|--------------------------------------------------------------------------------------------------------------|---------------------------------------------------------------------------------------------------------------|----------------------------------------------------------------------------------------------------------------|
| 1)  <input type="text"/> | 2)  <input type="text"/> | 3)  <input type="text"/> |
|--------------------------------------------------------------------------------------------------------------|---------------------------------------------------------------------------------------------------------------|----------------------------------------------------------------------------------------------------------------|

| | | |
|---------------------------------------------------------------------------------------------------------------|----------------------------------------------------------------------------------------------------------------|-----------------------------------------------------------------------------------------------------------------|
| 4)  <input type="text"/> | 5)  <input type="text"/> | 6)  <input type="text"/> |
|---------------------------------------------------------------------------------------------------------------|----------------------------------------------------------------------------------------------------------------|-----------------------------------------------------------------------------------------------------------------|

| | | |
|----------------------------------------------------------------------------------------------------------------|-----------------------------------------------------------------------------------------------------------------|------------------------------------------------------------------------------------------------------------------|
| 7)  <input type="text"/> | 8)  <input type="text"/> | 9)  <input type="text"/> |
|----------------------------------------------------------------------------------------------------------------|-----------------------------------------------------------------------------------------------------------------|------------------------------------------------------------------------------------------------------------------|

| | | |
|-----------------------------------------------------------------------------------------------------------------|------------------------------------------------------------------------------------------------------------------|-------------------------------------------------------------------------------------------------------------------|
| 10)  <input type="text"/> | 11)  <input type="text"/> | 12)  <input type="text"/> |
|-----------------------------------------------------------------------------------------------------------------|------------------------------------------------------------------------------------------------------------------|-------------------------------------------------------------------------------------------------------------------|