

GUÍA N° 5 DE HISTORIA Y GEOGRAFÍA

NOMBRE _____

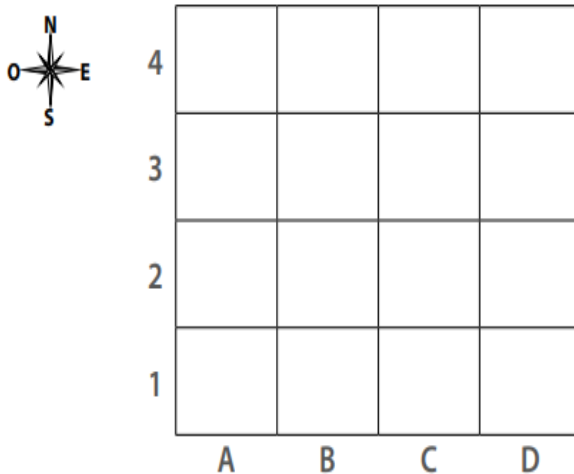
PTJE.IDEAL 49 PTS./ PTJE.REAL _____

OBJETIVO:1.- Distinguir hemisferios, línea del Ecuador, trópicos, polos, continentes y océanos del planeta en mapas y globos terráqueos. 2.- Reconocer las distintas zonas climáticas de la Tierra.

1.-Elabora una situación en la que tengas que ubicar al menos tres objetos, lugares o personas en una cuadrícula. Para hacerlo deberás entregar instrucciones claras y precisas y considerar los puntos cardinales. Así, la otra persona podrá ubicar los objetos, lugares o personas de manera más fácil. (8pts/_____)

Cuadrícula:

Usa la cuadrícula para ubicar los objetos. Toma en cuenta tus propias instrucciones y los componentes necesarios para realizar el ejercicio.



Instrucciones:

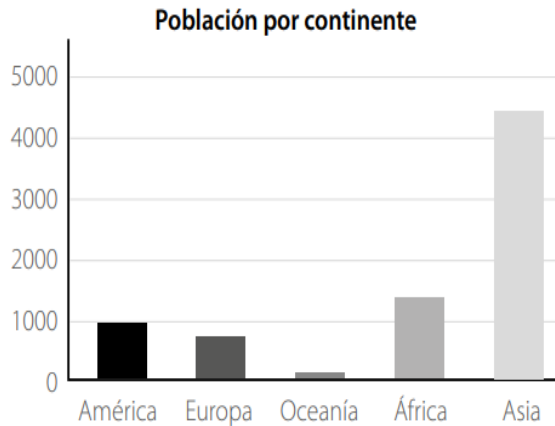
¿Dónde están las tres personas, objetos o lugares que se deben ubicar?

a. _____

b. _____

c. _____

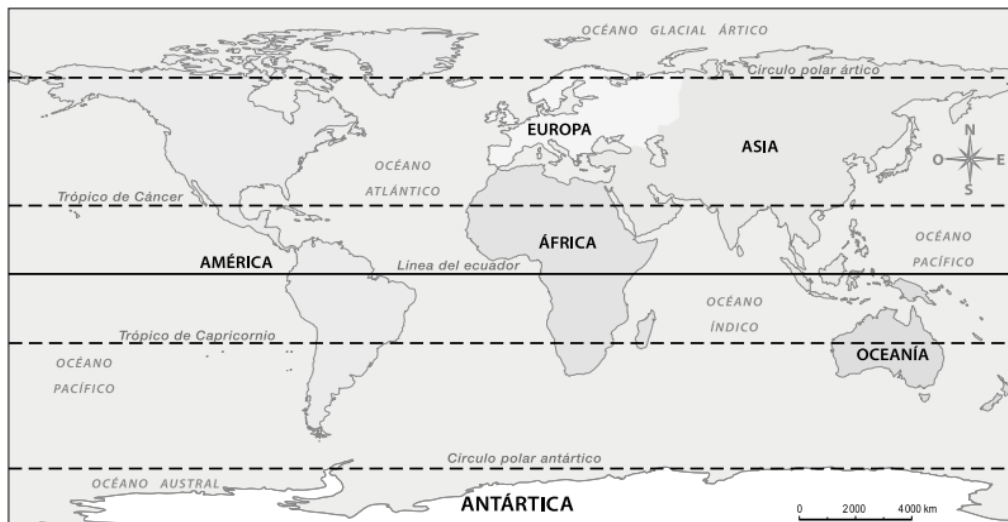
2.- De acuerdo con lo que puedes observar en el gráfico de barras, completa el relato mencionando si tiene «más» o «menos» población. (6 pts./ _____)



a. Asia tiene _____ que América. Pero, América tiene _____ que Oceanía. Además, podemos decir que Europa tiene _____ que África, pero Europa tiene _____ que Oceanía.

b. ¿Por qué la Antártica no aparece en el gráfico de población por continentes? (1 pts.)

3.-Remarca en el planisferio las líneas de referencias estudiadas utilizando distintos colores. Fíjate en las líneas punteadas. Recuerda trabajar de forma rigurosa y perseverante. (7 pts./_____)



Hemisferio:

Hemisferio:

Simbología



Línea del ecuador



Trópico de Capricornio



Círculo polar antártico

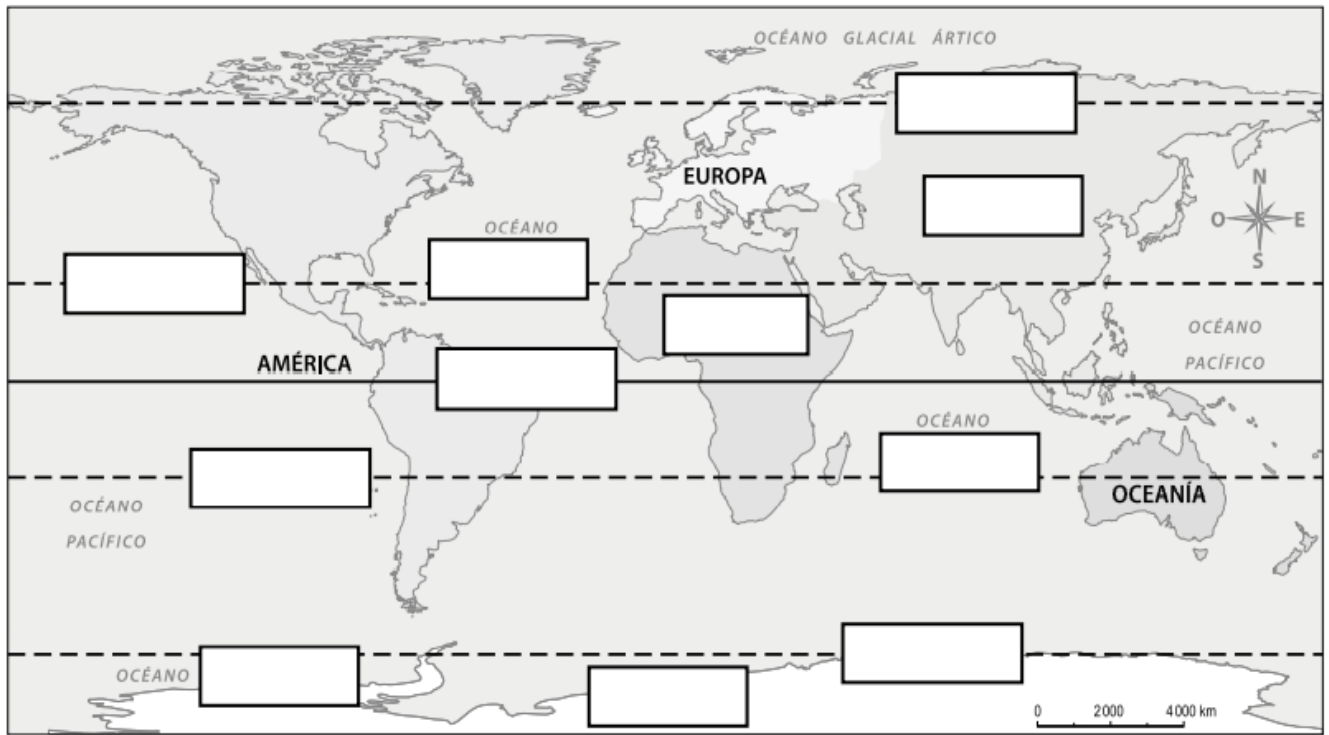


Trópico de Cáncer



Círculo polar ártico

4.- Observa el Planisferio y sigue las instrucciones (16 pta/____)



Zona cálida

Zona templada

Zona fría

- Escribe en los recuadros los nombres de continentes y océanos que faltan en el planisferio. (0,5 puntos c/u)
- Pinta con color rojo las líneas imaginarias como trópicos, círculos polares y línea del ecuador. Luego, escribe sus nombres. (1 punto c/u)
- Identifica y pinta con colores las distintas zonas climáticas de la Tierra. Completa la simbología que se presenta bajo el planisferio con esa información. (1 punto c/u)
- Escoge una de las zonas climática y describe sus principales características. (2 puntos)

5.- Lee y marca la alternativa correcta (12 pts/_____)

1. La mejor representación de nuestro planeta Tierra es:

- a) Un planisferio
- b) Un plano del mundo
- c) Un globo terráqueo
- d) Un mapamundi

2. Las líneas de la imagen representan los:

- a) Paralelos
- b) Meridianos
- c) Trópicos
- d) Polos

3. Los meridianos son líneas imaginarias que se extiende de:

- a) Norte a Sur
- b) Este a Oeste
- c) Derecha a izquierda
- d) Ninguna de las anteriores

4. La Tierra tiene líneas imaginarias que nos ayudan a:

- a) Dibujar la Tierra
- b) Ubicarnos en la Tierra
- c) Nombrar la Tierra
- d) Ninguna de las anteriores

5. Según la Línea del Ecuador, Chile se encuentra ubicado en el Hemisferio:

- a) Norte
- b) Sur
- c) Este
- d) Oeste

6. Según el Meridiano de Greenwich, Chile se encuentra ubicado en el Hemisferio:

- a) Norte
- b) Sur
- c) Este
- d) Oeste

7. Grandes trozos de tierra que se encuentran rodeado de océanos, la definición corresponde a:

- a) Paralelos
- b) Meridianos
- c) Océanos
- d) Continentes

8. Es la distancias medida en grados que existe entre un punto cualquiera y la línea del Ecuador, la definición corresponde a:

- a) Horizonte
- b) Latitud
- c) Oriente
- d) Longitud

9. América, Asia, Oceanía, África y Europa se conocen como:

- a) Países
- b) Continentes
- c) Océanos
- d) Mares

10. Asia se encuentra en el Hemisferio :

- a) Oriental
- b) Occidental
- c) América
- d) Océanos

11. ¿Cómo se llama el Paralelo 0°?

- a) Meridiano de Greenwich
- b) Línea del Ecuador
- c) Trópico de Cáncer
- d) Trópico de Capricornio

12. África y Europa se encuentran ubicados en el hemisferio:

- a) Índico
- b) Pacífico
- c) Oriente
- d) Occidente

LICEO ELVIRA SÀNCHEZ DE GARCÈS
HISTORIA Y GEOGRAFÍA 3º BÀSICO 2021
PROFESORA VANESSA VERA MAURO
GUÍA N° 5

