



Guía de Matemática :Números (Entrega N° 5)




Nombre:-----

Curso:1° año básico Fecha:-----Puntaje ideal :60 puntos


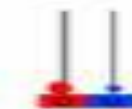


Objetivo: Leer y representar números en el ámbito conocido y Desarrollar adiciones y sustracciones ,

Profesora : Digna Leal: correo : digna.leal@liceoelvirasanchez.cl y Whatsapp +56954904614

I.-Une el número con su representación usando un color diferente cada vez.(los rojos del ábaco ,son los grupos de 10 o decenas) (12 puntos)



- | D | U |
|---|---|
| 3 | 7 |
| 2 | 1 |
| 3 | 1 |
| 4 | 1 |
| 1 | 1 |
| 4 | 3 |
| 2 | 2 |
| 5 | 4 |
| 1 | 2 |
| 2 | 4 |



II.- Desarrolla las adiciones.(8 puntos)

$$\begin{array}{r} 12 \\ + 5 \\ \hline \end{array}$$

$$\begin{array}{r} 10 \\ + 9 \\ \hline \end{array}$$

$$\begin{array}{r} 18 \\ + 3 \\ \hline \end{array}$$

$$\begin{array}{r} 20 \\ + 8 \\ \hline \end{array}$$

III.- Desarrolla las sustracciones.(8 puntos)

24	33	18	15
- 2	- 3	- 6	- 5
-----	-----	-----	-----

IV.-Completa los números que faltan-(7 puntos)



IV.-Descubre la imagen al unir los puntos del 1 al 50 en orden ascendente.(25 puntos)

