

GUÍA N°3 DE HISTORIA Y GEOGRAFÍA

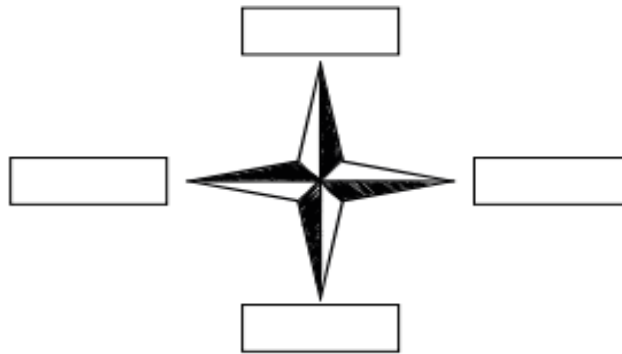
NOMBRE _____ PTJE. IDEAL 41 PTS/ PTJE.REAL _____

OBJETIVO: Ubicar personas, lugares y elementos en una cuadrícula, utilizando líneas de referencia y puntos cardinales

I.-Leer las instrucciones y desarrollar las actividades (25 pts./_____)

❶ Lee las siguientes afirmaciones y responde a qué punto cardinal corresponde. Luego, ubícalos en la rosa de los vientos.

- a. Indica el punto por donde sale el Sol (1 punto): _____ .
- b. Contrario al norte está el (1 punto): _____ .
- c. Si tu mano derecha apunta al este, frente a ti queda el (1 punto): _____ .
- d. Indica el punto por donde se oculta el Sol (1 punto): _____ .



❷ Responde las siguientes preguntas respecto a la ubicación espacial:

- a. ¿Por qué es importante reconocer los puntos cardinales? Fundamenta. (3 puntos).

- b. Menciona dos ejemplos de situaciones en las que utilices los puntos cardinales en tu día a día. Luego, dibuja uno de esos ejemplos.

- Ejemplo 1 (2 puntos): _____
- Ejemplo 2 (2 puntos): _____

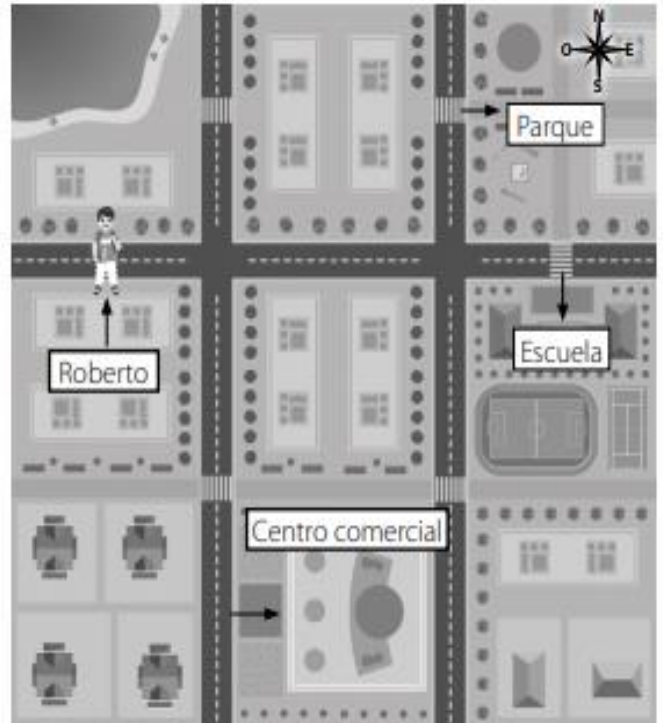
3 Observa el siguiente plano y realiza las actividades que se presentan a continuación:

a. Tomando en cuenta los puntos cardinales, describe el camino para que Roberto llegue a los siguientes lugares:

• Escuela (2 puntos): _____

• Centro comercial (2 puntos): _____

• Parque (2 puntos): _____



4 Observa el **Recurso 1** y responde las preguntas:

Recurso 1 La zona sur

La ganadería es parte importante de los paisajes de la zona sur de Chile.









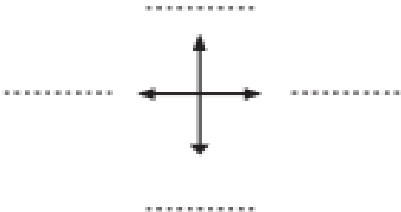


a. Describe el paisaje que se presenta en el **Recurso 1** tomando en cuenta los elementos que puedes distinguir. (2 puntos).

b. El paisaje del **Recurso 1**, ¿es similar o no al lugar en el que vives?, ¿por qué? (2 puntos).

v.- Ubicándonos en una cuadrícula (16pts./_____)

- Completa la Rosa de los Vientos, escribiendo los puntos cardinales en las líneas.
- En la cuadrícula, dibuja donde correspondan los símbolos que representan los siguientes elementos:
 - Casa (B, 5)
 - Hospital (F, 2)
 - Iglesia (D, 6)
 - Restaurante (A, 3)
 - Panadería (E, 1)
 - Colegio (B, 4)
 - Plaza (F, 3)
 - Cancha fútbol (E, 4)

	A	B	C	D	E	F	
1							Simbología  Plaza  Casa  Panadería  Colegio  Hospital  Cancha de fútbol  Restaurante  Iglesia 
2							
3							
4							
5							
6							

Completa, escribiendo el punto cardinal que corresponde:

- La cancha de fútbol se ubica al _____ del colegio.
- El hospital está al _____ de la plaza.
- El restaurante está al _____ de la plaza.
- La casa se ubica al _____ del colegio.

LICEO ELVIRA SÀNCHEZ DE GARCÈS
HISTORIA Y GEOGRAFÍA 3º BÀSICO 2021
PROFESORA VANESSA VERA MAURO
GUÍA N°3

