


Guía de Matemática N° 14

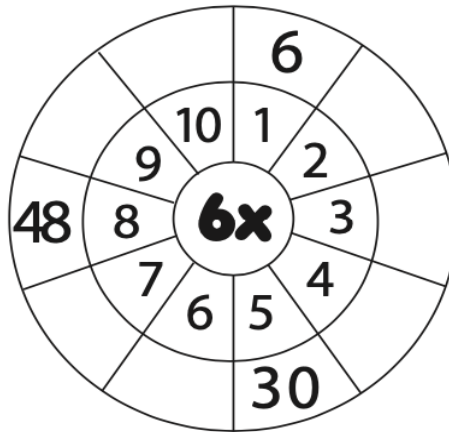
Nombre: _____ Fecha: 07 de Octubre
O. de Aprendizaje: Resolver multiplicaciones aplicando la tabla del 6.

Tabla del 6

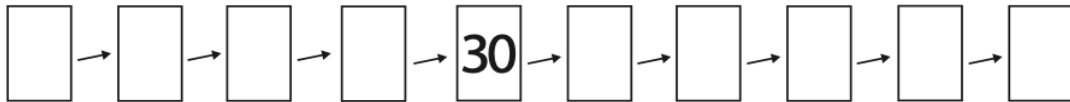
Tabla del




Completa la rueda.



Completa la secuencia de los múltiplos del 6.



6 Colorea los múltiplos del 6.



Resuelve las operaciones.

$$\begin{aligned} 6 \times 6 &= ______ \\ 6 \times 2 &= ______ \\ 6 \times 3 &= ______ \\ 6 \times 9 &= ______ \\ 6 \times 1 &= ______ \\ 6 \times 5 &= ______ \\ 6 \times 8 &= ______ \\ 6 \times 4 &= ______ \\ 6 \times 7 &= ______ \\ 6 \times 10 &= ______ \end{aligned}$$

Tabla del 6

Completa la tabla del 6.

$6 \times 1 =$

$6 \times 2 =$

$6 \times 3 =$

$6 \times 4 =$

$6 \times 5 =$

$6 \times 6 =$

$6 \times 7 =$

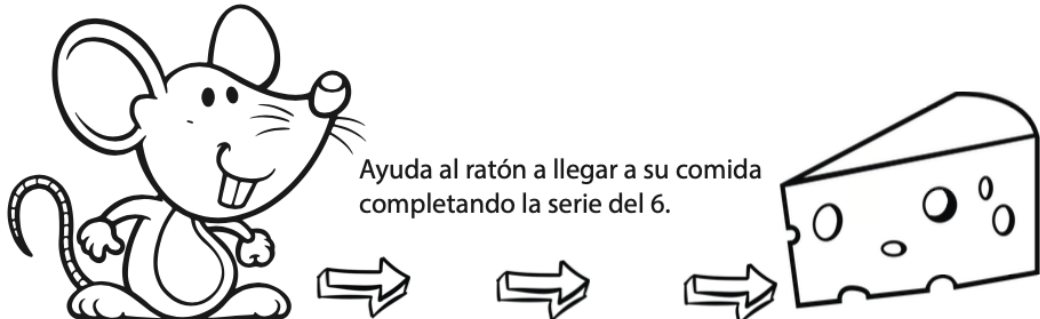
$6 \times 8 =$

$6 \times 9 =$

$6 \times 10 =$

Colorea los cuadros según los resultados de la tabla del 6.

1	2	3	4	5	6	7	8	9	10
11	12	13	14	15	16	17	18	19	20
21	22	23	24	25	26	27	28	29	30
31	32	33	34	35	36	37	38	39	40
41	42	43	44	45	46	47	48	49	50
51	52	53	54	55	56	57	58	59	60
61	62	63	64	65	66	67	68	69	70
71	72	73	74	75	76	77	78	79	80
81	82	83	84	85	86	87	88	89	90
91	92	93	94	95	96	97	98	99	100



Ayuda al ratón a llegar a su comida completando la serie del 6.

12 36 54