

GUÍA DE MATEMÁTICAS DE LONGITUDES EN 6ª PERIODO DE PRIORIZACIÓN CURRICULAR

NOMBRE _____

Con la regla medimos **CENTÍMETROS** y se escribe **cm.**

- Fíjate en lo que miden estos objetos y anota el resultado.


sacapuntas

Escribe la longitud cm. 


boli

Escribe la longitud cm. 

- Completa:

El  mide centímetros.


El  mide centímetros.


- Ahora vamos a comparar MAYOR QUE - MENOR QUE


El  mide que el 


El  mide que el 

- Fíjate en lo que miden estos objetos y anota el resultado.



Escribe la longitud  cm.



Escribe la longitud  cm.

- Completa:

El  mide cm.

La  mide cm.


- Ahora vamos a comparar MAYOR QUE - MENOR QUE

El  mide que la 

La  mide que el 

El  y la  miden

- Fíjate en lo que miden estos objetos y anota el resultado.



lápiz

Escribe la longitud cm.



llave

Escribe la longitud cm.

La  mide cm.

La  mide cm.

- Ahora vamos a comparar MAYOR QUE - MENOR QUE

El  mide _____ que la 

La  mide _____ que el 

El  mide _____ que la 

Pinta el medio de transporte que utilizarías para ir a:
EL COLEGIO



CASA DE LOS ABUELOS



UN PASEO POR EL PARQUE



DISNEYLAND PARIS



LA PLAYA

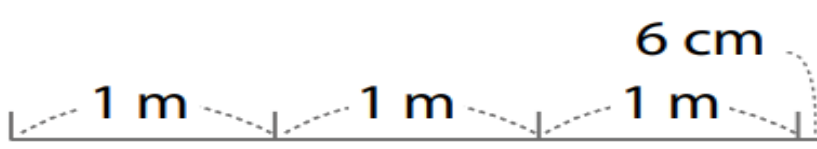




Ticket de salida pág. 74

¿Cuánto mide?

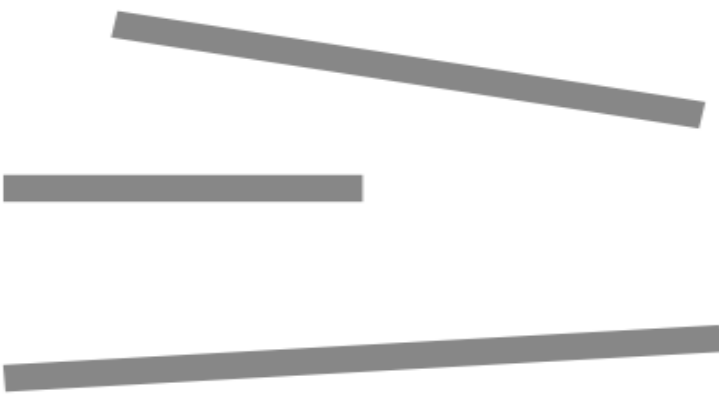
OA 19: Determinar la longitud de objetos



Ticket de salida pág. 77

Mide.

OA 19: Determinar la longitud de objetos



Ticket de salida pág. 78

Ordena estas medidas desde la más larga a la más corta.

3 m 34 cm 3 cm 4 m

<input type="text"/>	<input type="text"/>	<input type="text"/>	<input type="text"/>
----------------------	----------------------	----------------------	----------------------

OA 19: Determinar la longitud de objetos

Ticket de salida pág. 80

Completa con la unidad de medida apropiada para medir:

Largo de la cancha:

Largo del cuaderno:

OA 19: Determinar la longitud de objetos