











GUÍA DE MATEMÁTICAS PERIODO N° 4 DE PRIORIZACIÓN CURRICULAR





NOMBRE: _____





Suma simple

1. Resuelve las adiciones.

$\begin{array}{r} 557 \\ + 211 \\ \hline \end{array}$ <input type="text"/> 	$\begin{array}{r} 448 \\ + 541 \\ \hline \end{array}$ <input type="text"/> 	$\begin{array}{r} 635 \\ + 334 \\ \hline \end{array}$ <input type="text"/> 	$\begin{array}{r} 717 \\ + 272 \\ \hline \end{array}$ <input type="text"/> 
--	--	--	--

$\begin{array}{r} 824 \\ + 121 \\ \hline \end{array}$ <input type="text"/> 	$\begin{array}{r} 438 \\ + 141 \\ \hline \end{array}$ <input type="text"/> 	$\begin{array}{r} 722 \\ + 276 \\ \hline \end{array}$ <input type="text"/> 	$\begin{array}{r} 372 \\ + 326 \\ \hline \end{array}$ <input type="text"/> 
--	--	--	--

$\begin{array}{r} 362 \\ + 337 \\ \hline \end{array}$ <input type="text"/> 	$\begin{array}{r} 265 \\ + 231 \\ \hline \end{array}$ <input type="text"/> 	$\begin{array}{r} 257 \\ + 621 \\ \hline \end{array}$ <input type="text"/> 	$\begin{array}{r} 627 \\ + 352 \\ \hline \end{array}$ <input type="text"/> 
--	--	--	--

$\begin{array}{r} 245 \\ + 511 \\ \hline \end{array}$ <input type="text"/> 	$\begin{array}{r} 854 \\ + 124 \\ \hline \end{array}$ <input type="text"/> 	$\begin{array}{r} 288 \\ + 611 \\ \hline \end{array}$ <input type="text"/> 	$\begin{array}{r} 573 \\ + 224 \\ \hline \end{array}$ <input type="text"/> 
--	--	--	--



6. Ayuda al dragón a encontrar su huevo.



	4	6	5
+	2	2	6

	3	4	8
+	2	4	6

	4	3	8
+	2	3	4

	4	7	6
+	2	1	6

	3	4	8
+	2	3	4

	4	3	9
+	2	2	6

	5	6	8
+	2	1	7

	7	5	9
+	1	3	5


	5	6	3
+	2	2	9


	4	5	9
+	1	3	7





Sustracciones hasta el 1000


1. Restas sin llevada


$$\begin{array}{r} 786 \\ - 485 \\ \hline \end{array}$$



$$\begin{array}{r} 369 \\ - 233 \\ \hline \end{array}$$



$$\begin{array}{r} 329 \\ - 328 \\ \hline \end{array}$$


$$\begin{array}{r} 146 \\ - 101 \\ \hline \end{array}$$


$$\begin{array}{r} 536 \\ - 202 \\ \hline \end{array}$$


$$\begin{array}{r} 731 \\ - 301 \\ \hline \end{array}$$


$$\begin{array}{r} 854 \\ - 143 \\ \hline \end{array}$$


$$\begin{array}{r} 598 \\ - 136 \\ \hline \end{array}$$



$$\begin{array}{r} 355 \\ - 013 \\ \hline \end{array}$$



$$\begin{array}{r} 874 \\ - 533 \\ \hline \end{array}$$









4. Resuelve las sustracciones.


$$\begin{array}{r} 594 \\ - 500 \\ \hline \end{array}$$



$$\begin{array}{r} 988 \\ - 402 \\ \hline \end{array}$$



$$\begin{array}{r} 151 \\ - 031 \\ \hline \end{array}$$


$$\begin{array}{r} 591 \\ - 121 \\ \hline \end{array}$$



$$\begin{array}{r} 373 \\ - 232 \\ \hline \end{array}$$



$$\begin{array}{r} 834 \\ - 610 \\ \hline \end{array}$$


$$\begin{array}{r} 682 \\ - 361 \\ \hline \end{array}$$


$$\begin{array}{r} 936 \\ - 934 \\ \hline \end{array}$$




$$\begin{array}{r} 223 \\ - 120 \\ \hline \end{array}$$


$$\begin{array}{r} 141 \\ - 130 \\ \hline \end{array}$$




PROFESORA VANESSA VERA MAURO.
MATEMÁTICAS 2° año Básico
PERIODO N°4 DE PRIORIZACIÓN CURRICULAR 2020