



PROFESORA
Carolina Flores
Pinto

Guía de matemática N°4
4TA ENTREGA PRIORIZACION CURRICULAR
Primero Básico

Nombre alumno(a)

Fecha:

Unidad: 1

Objetivo de aprendizaje: 9

Habilidades:

Observar-escribir- juntar-agregar-contar-
representar- asociar-manipular- Calcular.

Correo Electrónico: c.info.flores@gmail.com

INSTRUCCIONES


1. Realiza las siguientes actividades con la ayuda de un adulto.
2. Registra en la parte superior derecha de tu cuaderno azul, la fecha en la que realizas esta actividad.
3. Luego registra el objetivo de aprendizaje:
“Representan adiciones con material concreto (manipular objetos) de manera pictórica (dibujos y simbólica (símbolos numéricos) hasta 10.
4. En la primera página de esta guía encontraras la explicación del contenido, para luego aplicarlo en las páginas posteriores.
5. Cuando finalices, debes pegar está guía en tu cuaderno azul, hoja por hoja.

Actividad N° 1: Observa detenidamente la cantidad de objetos que se muestran, luego, juntas los siguientes y completa (juntar)

balones. balones.

En total hay balones.

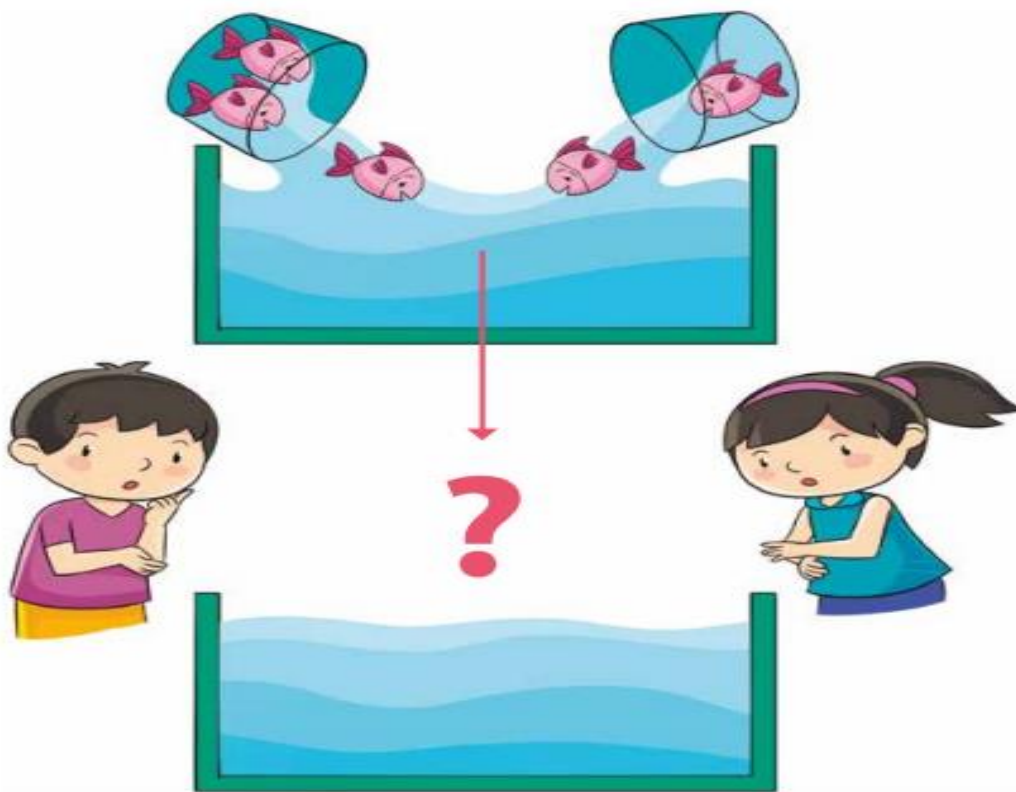
Observa y completa: los cubos de una mano y luego los juntas con los cubos de la otra.




cubos. cubos. cubos en total.

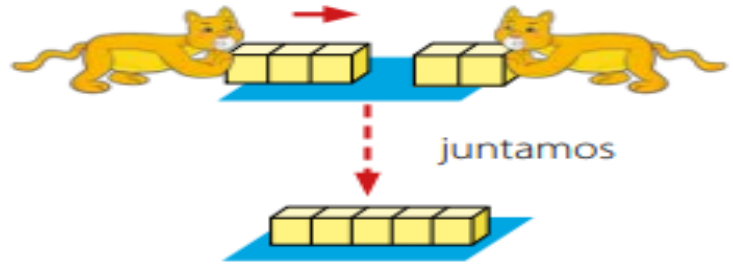
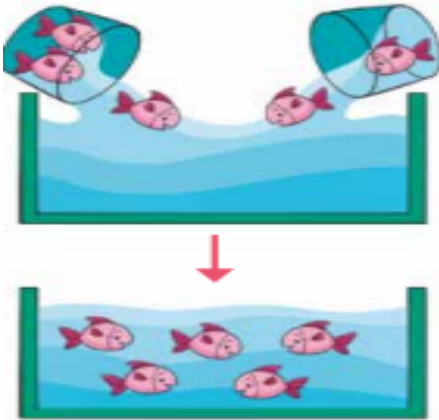
Observa:

¿Cuántos peces hay en total?





Coloca  sobre las imágenes y cuenta una historia a tu amigo.



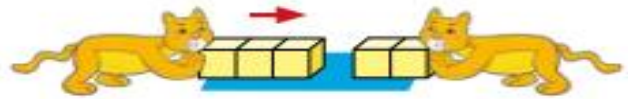
$$3 + 2 = 5$$

3 más 2 es igual a 5.

Respuesta: 5 peces



Actividad N° 2: Cuenta cuantas ranas hay en total



Frase numérica + =

Respuesta: ranas

Ambos, peces y ranas juntos.

Usando cubos

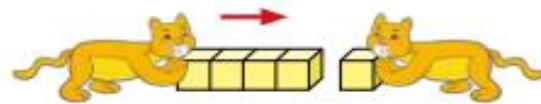


+ =

- ¿Cuántos niños hay en total?



Frase numérica



Respuesta: niños

Actividad N° 3: Sumemos.

$2 + 1$

$1 + 4$

$3 + 1$

$2 + 3$

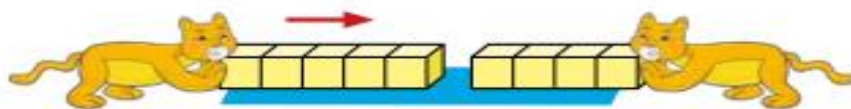
$1 + 2$

$1 + 1$

$2 + 2$

$4 + 1$



Actividad N° 4: Hay 5 flores rojas y 4 flores blancas. ¿Cuántas flores hay en total?
Escoge la imagen en la próxima página.



Frase numérica

Respuesta: flores

Actividad N° 4: Cuenta cuantos conejos blancos hay, y luego los juntas con los conejos negros. No olvides la frase numérica ($2+5=$)

Hay  y 
¿Cuántos conejos hay en total?

Frase numérica :

Respuesta: conejos