

Etiqueta de salida: 2° Entrega Priorización Curricular

Nombre: _____

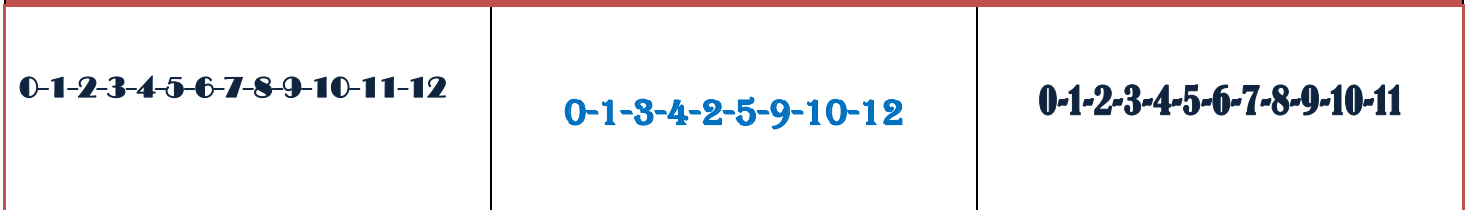
Fecha: ____/____/____ Puntaje Total: 30 puntos.- Puntaje Obtenido: _____

Contesta las siguientes preguntas marcando con una X la alternativa correcta.-


1.- Cuenta los elementos que tiene cada cuadro y descubre donde hay 9 elementos (3 puntos).-



2.- Marca la secuencia numérica que esta ordenada de forma correcta del 0 al 12 (3 puntos).-



3.- ¿Cuál de estos elementos están ordenados del más bajo al más alto? (3 puntos)



4.- El siguiente patrón como continua...





(3 puntos)






4.- Cuenta cada conjunto y escribe en el círculo el número que corresponde. Luego compara los conjuntos en cada cuadro marcando con una X donde hay más elementos (18 puntos)

a)



b)



c)

