


Etiqueta de salida: 2° Entrega Priorización Curricular

Nombre: \_\_\_\_\_


Fecha: \_\_\_\_/\_\_\_\_/\_\_\_\_ Puntaje Total: 36 puntos.- Puntaje Obtenido: \_\_\_\_

Contesta las siguientes preguntas marcando con una X la alternativa correcta.-

1.- Dibujo que representa la Etapa "ADULTA" (3 puntos)-







2.- Dibujo que representa la Etapa "INFANCIA" (3 puntos)-






3.- ¿Qué necesita una planta para poder crecer? Marca todas las alternativas correcta (6 puntos)

				
Tierra	Pastel	sol	agua	leche

4.- Escribe la secuencia correcta del crecimiento de una gallina utilizando los números del 1 al 4(8 puntos)

 <p>Crecimiento</p> <input type="radio"/>	 <p>Reproducción</p> <input type="radio"/>	 <p>Nacimiento</p> <input type="radio"/>	 <p>Muerte</p> <input type="radio"/>
--	---	--	---

5.- Une con una línea relacionando las imágenes de la derecha con las de la izquierda (6 puntos)

6.- Dibuja la etapa del desarrollo humano en la cual te encuentras (10 puntos)