

Unidad: Etapas del desarrollo humano / Núcleo de Aprendizaje: Pensamiento Matemático

Ticket de salida: 2° Entrega Priorización Curricular

Nombre: _____

Puntaje total: 29 Puntaje obtenido: _____

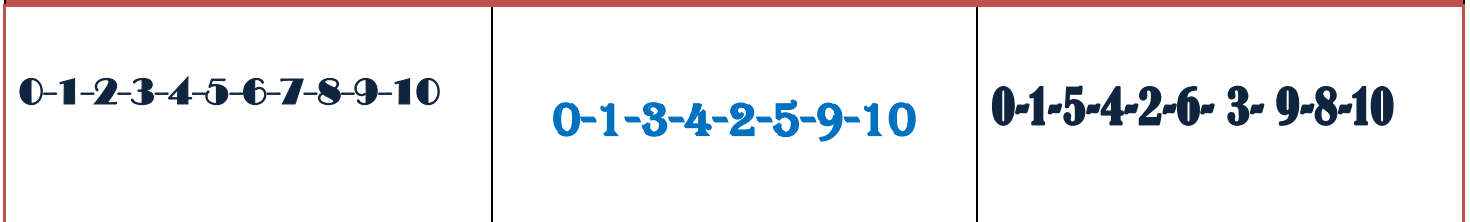
Fecha: ____/____/____

Contesta las siguientes preguntas marcando con una X la alternativa correcta.-

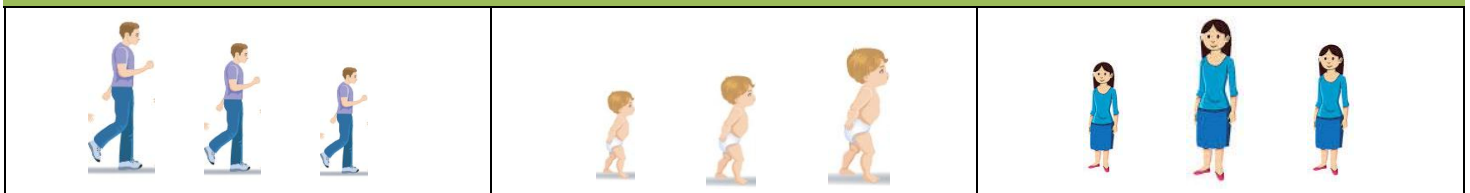
1.- Cuenta los elementos que tiene cada cuadro y descubre donde hay 7 elementos.- (2 PUNTOS)



2.- Marca la secuencia numérica que esta ordenada de forma correcta del 0 al 10.- (2 PUNTOS)



3.- ¿Cuál de estos elementos están ordenados del más bajo al más alto? (2 PUNTOS)



4.- El siguiente patrón como continua....



(2 PUNTOS)





5. CUENTA Y COMPARA

(9 puntos)



SE PRESENTAN DOS CONJUNTOS CON ELEMENTOS LOS CUALES DEBES CONTAR, ESCRIBIR SU NÚMERO Y MARCAR CON UNA **X** donde hay **más**.

1.-



Escribe el número acá



2.-



3.-



6. Completa secuencia numérica

(8 puntos)

Completa la secuencia numérica, escribe el número que falta.

0		2		4		6		8	9	10
---	--	---	--	---	--	---	--	---	---	----

7.- Noción espacial

(4 puntos)

Responde las siguientes preguntas y anota tu respuesta

Luca

Vera



- ¿Qué animal está mas lejos de Vera? _____
- ¿Qué niño está mas cerca del pollito? _____
- ¿Qué animal está mas cerca de Luca? _____
- ¿Qué niño está mas lejos de la tortuga? _____