



GUÍA DE RETROALIMENTACIÓN DE MATEMÁTICAS ,3° PERIODO DE PRIORIZACIÓN CURRICULAR

NOMBRE: _____ FECHA 2° QUINCENA AGOSTO

Números hasta el 1000



1. Escribe los siguientes números en palabras.

700

200

600

1000

400

900


800


500


100




2. Al árbol le faltan las hojas.
Completa las hojas en blanco.

a) 

b) 

c) 



VALOR POSICIONAL

1. Escribe los números y las palabras que faltan.

Ejemplo



345

$300 + 40 + 5$

Trescientos cuarenta y cinco

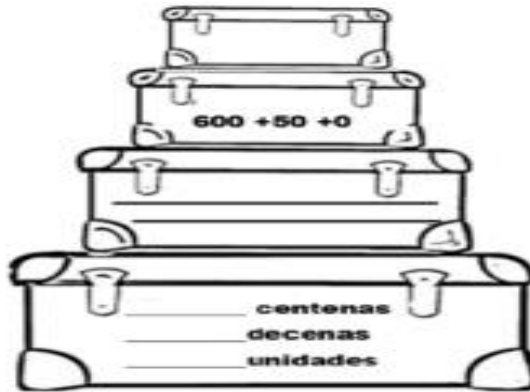
3 centenas
4 decenas
5 unidades




678

$+ 70 + 8$

centenas
decenas
unidades

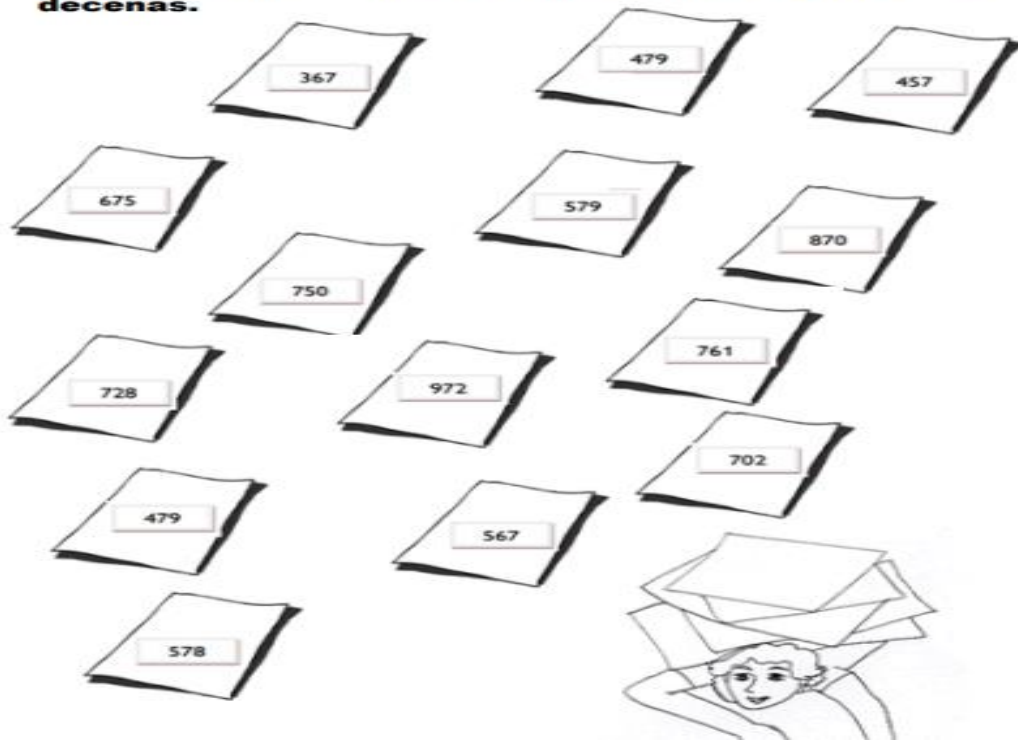


2. Pinta del mismo color las nubes que representan el mismo número.

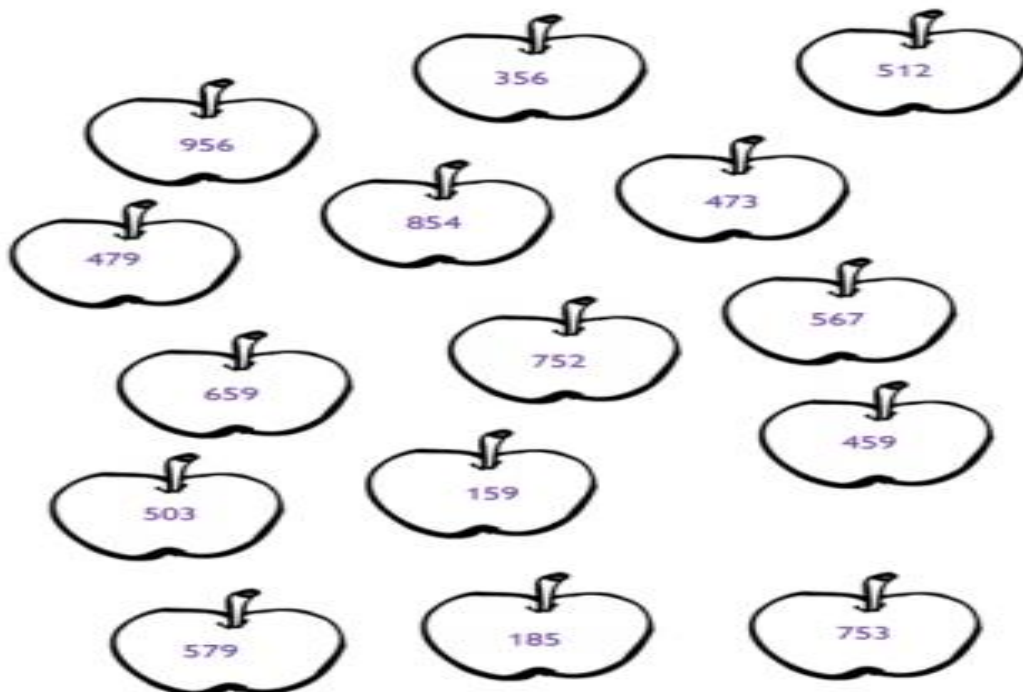




3. A Tristán se le cayeron las tarjetas de valor posicional. Pinta los números que tienen un 7 en el lugar de las decenas.



4. Marca con una x los números en que 5 vale 50.





PROFESORA VANESSA VERA MAURO.
Matemáticas 2° año Básico
2020



Comparando números

1. Mayor que, menor que, igual a

~~395 es _____ 395~~ ☆

~~970 es _____ 975~~ ☆

~~119 es _____ 191~~ ☆

~~688 es _____ 687~~ ☆

2. Pinta los números menores que 154.


68	145	155	236
46	183	153	36
254	200	47	25



3. Pinta los números mayores que 578.



4. Completa con > , < o =



2. Completa las secuencias con los números que faltan.

60	59	58	57	56	
50	100	150			
143	243	343			
327		329		331	
805		825	835		
	624	524	424		

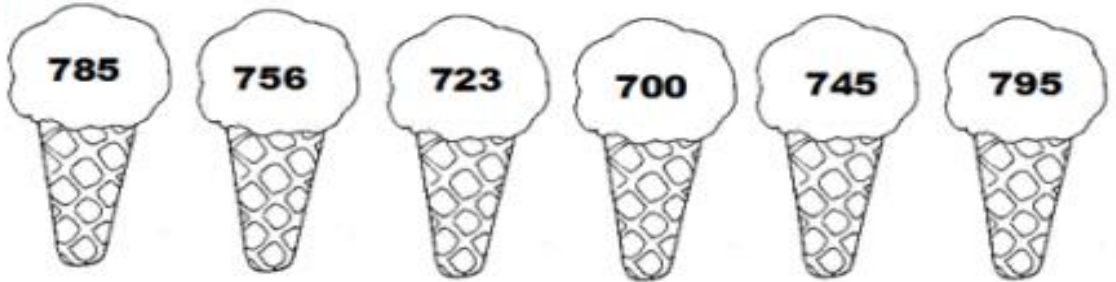


4. Recorta, ordena y pega en tu cuaderno los helados de menor a mayor.

a)



b)



c)

