

**EVALUACIÓN FORMATIVA N°2 DE PRIORIZACIÓN CURRICULAR**  
**2° AÑO DE ENSEÑANZA BÁSICA**

Nombre: \_\_\_\_\_

Curso: \_\_\_\_\_ Puntaje: \_\_\_\_/33 puntos.

<b>Unidad</b>	<b>Unidad 2:</b> "Tipos de animales y sus hábitats. Invertebrados (insectos, arácnidos y crustáceos). Ciclo de vida de los animales. Animales en peligro de extinción"
<b>Objetivo de Aprendizaje</b>	(OA 2) Observar, describir y clasificar, por medio de la exploración, las características de los animales sin columna vertebral, como insectos, arácnidos, crustáceos, entre otros, y compararlos con los vertebrados. (OA 3) Observar y comparar las características de las etapas del ciclo de vida de distintos animales (mamíferos, aves, insectos y anfibios), relacionándolas con su hábitat. (OA 4) Observar y comparar las características de distintos hábitats, identificando la luminosidad, humedad y temperatura necesarias para la supervivencia de los animales que habitan en él.
<b>Indicador de Evaluación</b>	Reconocer los ciclos de vida de los seres vivos. Diferenciar los distintos tipos de hábitats. Reconocer las características de los seres vivos. Reflexionar sobre los animales que están en peligro de extinción.

**INSTRUCCIONES:** Lee cuidadosamente antes de responder.

1. Escribe una V si la oración es verdadera y una F si es falsa. (7 puntos)

1. \_\_\_\_\_ La rana es un reptil vivíparo.
2. \_\_\_\_\_ El congrio es un pez y su reproducción es por huevos.
3. \_\_\_\_\_ El león es un anfibio carnívoro.
4. \_\_\_\_\_ La vaca es un animal herbívoro y vivíparo.
5. \_\_\_\_\_ El búho es un ave ovíparo.
6. \_\_\_\_\_ La serpiente es un reptil que se reproduce por crías vivas.
7. \_\_\_\_\_ La Ballena es un mamífero y se reproduce por crías vivas.

2. Lee los siguientes textos y escribe el nombre del animal en el que están pensando los niños. (4 puntos)

moluscos - peces - insectos - anfibios


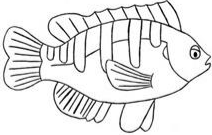
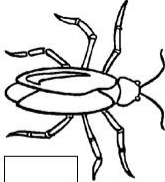


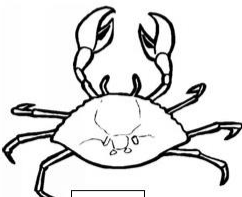


Vertebrados, se reproducen por huevos, cuerpo cubierto de escamas. Son \_\_\_\_\_

Invertebrados que tienen el cuerpo blando y poseen una concha para protegerse. Son \_\_\_\_\_


Invertebrados tiene dos antenas y seis patas. La mayoría de los animales que habitan en la Tierra son de este grupo. Son \_\_\_\_\_

Vertebrados, tienen la piel lisa y húmeda, desarrollan una parte de su vida en el agua y otra en la tierra. Son \_\_\_\_\_


3. Indica si el animal es VERTEBRADO (V) o INVERTEBRADO (I) según corresponda. (9 puntos)

		
<input type="checkbox"/>	<input type="checkbox"/>	<input type="checkbox"/>
		
<input type="checkbox"/>	<input type="checkbox"/>	<input type="checkbox"/>
		
<input type="checkbox"/>	<input type="checkbox"/>	<input type="checkbox"/>

4. Enumera e indica las fases de la metamorfosis de la mariposa. (4 puntos)



5. Une con una línea cada animal con su alimento. (3 puntos)



6. Completa la ficha con uno de los animales en peligro de extinción trabajados en clases. (6 puntos)

Nombre:	
Habita en:	
Se alimenta de:	
Se reproduce por:	
Se encuentra en peligro porque:	
Dibujo:	